

PIEMONTE



Verifica di Geografia

(Il Piemonte)

Nome e cognome

Classe

Data

1. Da che cosa deriva il nome Piemonte?

.....

2. Con quali stati e regioni confina?

.....

3. Il Piemonte è una delle regioni italiane che:

- ha uno sbocco al mare
- non ha uno sbocco al mare

4. Quale di questi laghi si trova in Piemonte?

- Iseo
- Garda
- Maggiore
- Trasimeno

5. Da quale monte nasce il fiume Po?

- Argentera
- Monviso
- Monte Rosa
- Gran Paradiso

6. Quali sono le caratteristiche del clima piemontese?

.....

.....

7. Quali sono i principali prodotti agricoli del Piemonte?

.....

.....

8. Quali sono le principali industrie piemontesi?

.....
.....

9. Il capoluogo del Piemonte è:

- Cuneo
- Alessandria
- Torino
- Asti

10. Quali di queste città si trovano in Piemonte?

- Vercelli
- Brescia
- Biella
- Como
- Bologna
- Novara

Verifica di Geografia

(Il Piemonte)

Nome e cognome

Classe

Data

1. Da che cosa deriva il nome Piemonte?

Dal latino "ad pedes montium".

2. Con quali stati e regioni confina?

Francia, Svizzera, Valle d'Aosta, Lombardia, Liguria, Emilia Romagna.

3. Il Piemonte è una delle regioni italiane che:

ha uno sbocco al mare

non ha uno sbocco al mare

4. Quale di questi laghi si trova in Piemonte?

Iseo

Garda

Maggiore

Trasimeno

5. Da quale monte nasce il fiume Po?

Argentera

Monviso

Monte Rosa

Gran Paradiso

6. Quali sono le caratteristiche del clima piemontese?

Clima continentale: inverni rigidi, estati calde e afose in pianura.

7. Quali sono i principali prodotti agricoli del Piemonte?

Vite, cereali, riso, barbabietole, castagne, tartufi.

Si allevano bovini.

8. Quali sono le principali industrie piemontesi?

Tessili, meccaniche, abbigliamento, chimiche, alimentari.

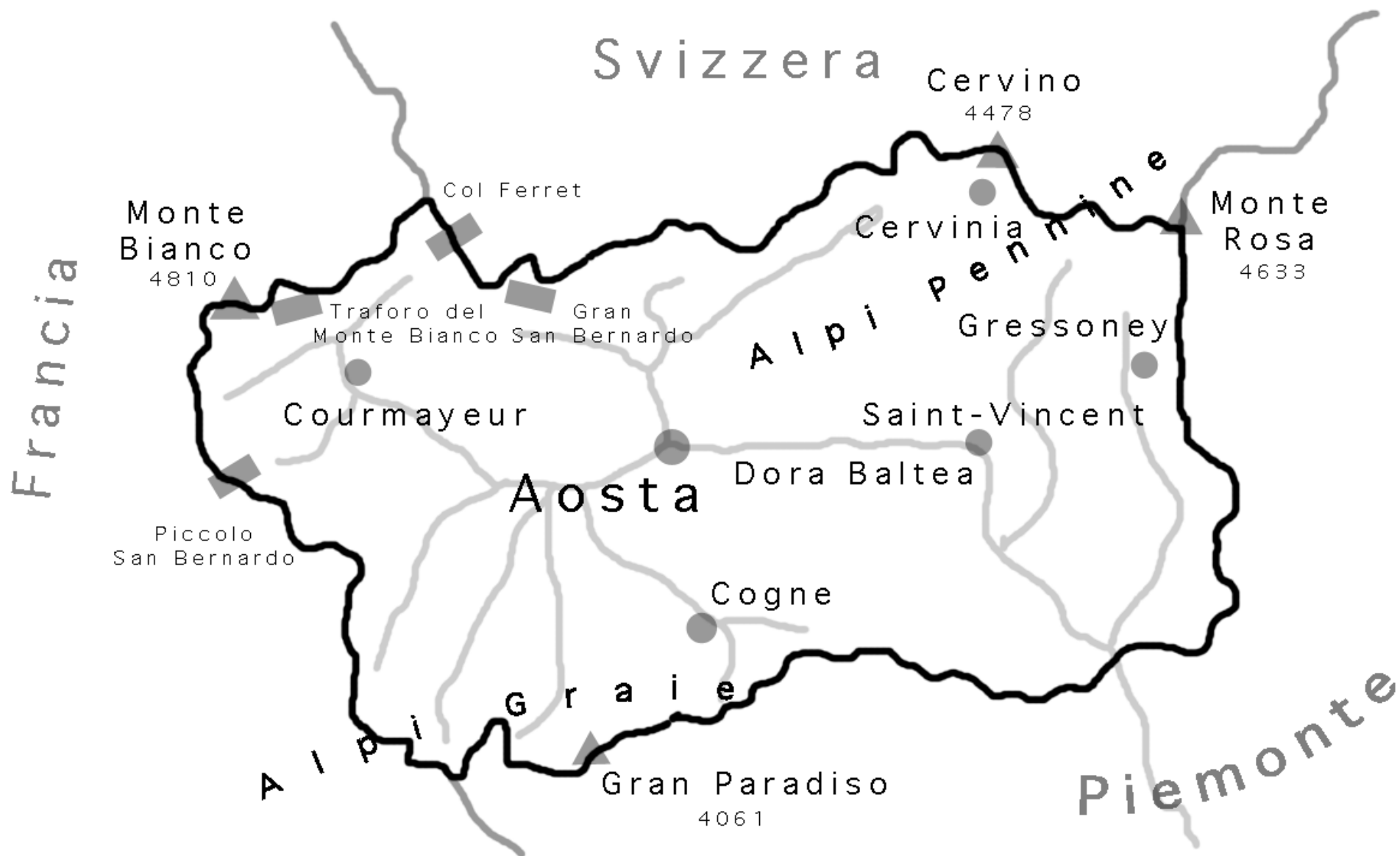
9. Il capoluogo del Piemonte è:

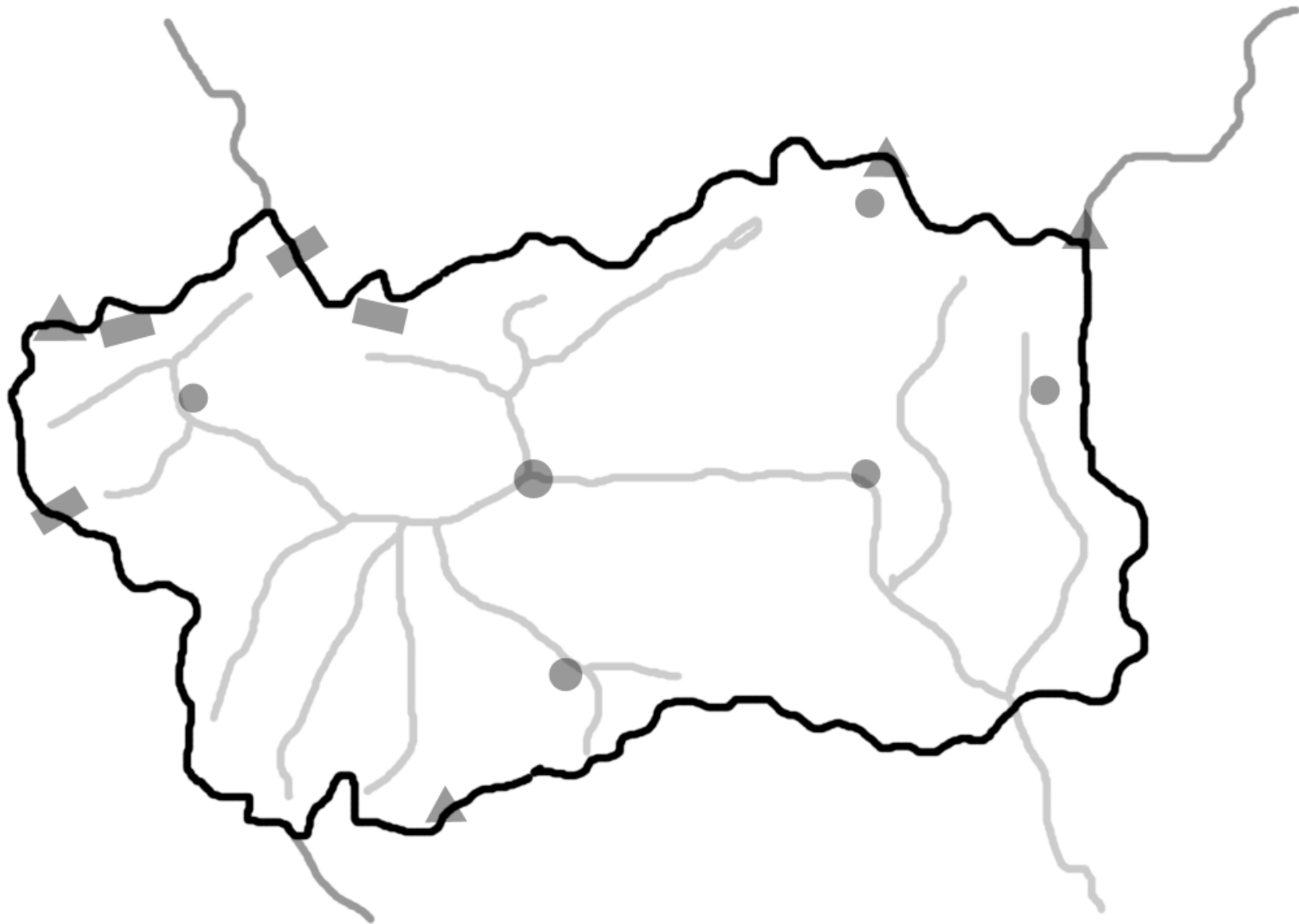
- Cuneo
- Alessandria
- Torino
- Asti

10. Quali di queste città si trovano in Piemonte?

- Vercelli
- Brescia
- Biella
- Como
- Bologna
- Novara

Valle d'Aosta





Valle d'Aosta

Posta a nord-ovest della penisola italiana, la Valle d'Aosta, con una **superficie** di 3.263 kmq, è la più piccola regione d'Italia. E' anche la meno popolata (120.000 ab.) e quella con la minore densità di popolazione (38 ab./kmq).

E' una delle 5 regioni italiane non bagnate dal mare ed è collegata alla Francia dai **trafori** del Piccolo San Bernardo e del Monte Bianco, alla Svizzera è collegata dal traforo del Gran San Bernardo. Il territorio, interamente montuoso, è occupato dalle Alpi Pennine e dalle Alpi Graie. Ha una quarantina di **vette** che superano i 4.000 metri di altezza, tra queste le maggiori sono il Monte Bianco, il Monte Rosa, il Cervino e il Gran Paradiso.

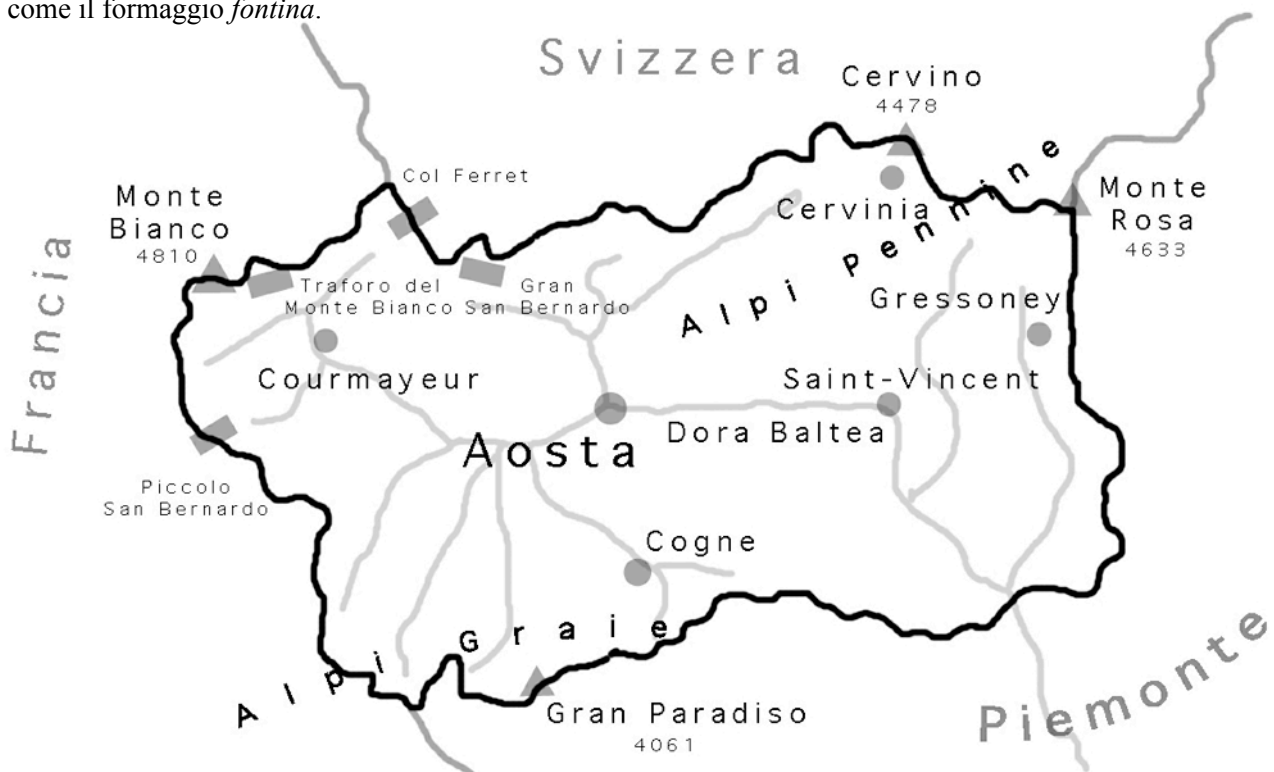
Il **fiume** principale, che attraversa la regione in tutta la sua lunghezza, è la Dora Baltea. Ha numerosi **laghi** di origine glaciale, i maggiori sono il Beaugard, il Dix e il Mauovisin.

Ha un **clima** continentale alpino, quindi gli inverni sono molto rigidi con abbondanti nevicate e le estati sono fresche. La **vegetazione** è formata da boschi di aceri, abeti, larici, betulle.

La parte meridionale del territorio è occupata dal **Parco Nazionale del Gran Paradiso** istituito nel 1922 per salvaguardare alcune specie di flora e fauna alpina in via d'estinzione come stambecchi, camosci, marmotte ed ermellini. Oltre a questo parco c'è in progetto di istituire il Parco internazionale del Monte Bianco, che si estenderà tra l'Italia, la Francia e la Svizzera.

La Valle d'Aosta è una delle cinque regioni autonome a statuto speciale. Ha un'unica città, che è anche il capoluogo, **Aosta** (35.000 ab.). Il capoluogo è un antico insediamento militare romano (Augusta Pretoria) di cui conserva ancora numerosi resti, come le mura, l'anfiteatro e l'arco di Augusto. Centri importanti della regione sono Pont Saint Martin, Courmayeur, Cogne, Gressoney, Cervinia, Saint-Vincent. In Valle d'Aosta si parlano **due lingue** ufficiali: l'italiano e il francese.

L'**economia** della regione si basa soprattutto sul terziario. Oltre due persone su tre lavorano in questo settore, in gran parte grazie al **turismo**, sia estivo che invernale, favorito dal verde paesaggio estivo e dalla neve abbondante per lo sci. L'**industria**, che occupa il 20% della popolazione attiva, si basa sulla siderurgia e sull'edilizia. Abbondante è la produzione idroelettrica, che viene ceduta in gran parte alle regioni circostanti. Ormai praticata da una piccolissima percentuale della popolazione, l'**agricoltura** si basa soprattutto sull'allevamento, che con l'alpeggio si pratica anche in alta montagna, e sulla produzione di prodotti tipici come il formaggio *fontina*.



Verifica di Geografia

(Valle d'Aosta)

Nome e cognome

Classe

Data

1. In quale zona dell'Italia si trova la Valle d'Aosta?

.....

2. Con quali Stati e con quali regioni confina?

.....

.....

3. La Valle d'Aosta è una delle regioni italiane che:

ha uno sbocco al mare

non ha uno sbocco al mare

4. Qual è il fiume più importante della Valle d'Aosta?

.....

5. Quali sono le quattro principali vette della Valle d'Aosta?

.....

.....

6. Indica quali Alpi si trovano nella Valle d'Aosta:

Liguri

Graie

Retiche

Marittime

Pennine

Carniche

Cozie

Lepontine

Giulie

7. Quali sono le caratteristiche del clima della Valle d'Aosta?

.....

.....

.....

8. Indica quali sono le specie vegetali più diffuse nella regione:

.....
.....

9. Quali trafori collegano la Valle d'Aosta con la Francia?

.....

10. Quale traforo collega la Valle d'Aosta con la Svizzera?

.....

11. Indica qual è la principale attività economica della regione e spiega perché lo è:

.....
.....
.....

12. Quali sono le altre attività economiche svolte nella Valle d'Aosta?

.....
.....
.....

13. Quali di queste città si trovano in Valle d'Aosta?

- | | | |
|-------------------------------------|----------------------------------|-----------------------------------|
| <input type="checkbox"/> Courmayeur | <input type="checkbox"/> Aosta | <input type="checkbox"/> Bolzano |
| <input type="checkbox"/> Brescia | <input type="checkbox"/> Bologna | <input type="checkbox"/> Cervinia |
| <input type="checkbox"/> Trieste | <input type="checkbox"/> Trento | <input type="checkbox"/> Modena |

Voto

Verifica di Geografia

(Valle d'Aosta)

Nome e cognome

Classe

Data

1. In quale zona dell'Italia si trova la Valle d'Aosta?

Nord-Ovest

2. Con quali Stati e con quali regioni confina?

Francia, Svizzera, Piemonte

3. La Valle d'Aosta è una delle regioni italiane che:

ha uno sbocco al mare

non ha uno sbocco al mare

4. Qual è il fiume più importante della Valle d'Aosta?

Dora Baltea

5. Quali sono le quattro principali vette della Valle d'Aosta?

Monte Bianco, Monte Rosa, Cervino, Gran Paradiso

6. Indica quali Alpi si trovano nella Valle d'Aosta:

Liguri

Graie

Retiche

Marittime

Pennine

Carniche

Cozie

Lepontine

Giulie

7. Quali sono le caratteristiche del clima della Valle d'Aosta?

Clima continentale alpino: inverni rigidi con abbondanti nevicate, estati fresche

8. Indica quali sono le specie vegetali più diffuse nella regione:

Aceri, abeti, larici, betulle

.....

.....

9. Quali trafori collegano la Valle d'Aosta con la Francia?

Monte Bianco e Piccolo San Bernardo

.....

10. Quale traforo collega la Valle d'Aosta con la Svizzera?

Gran San Bernardo

.....

11. Indica qual è la principale attività economica della regione e spiega perché lo è:

Turismo (paesaggio, verde, montagna, natura, sport, sci)

.....

.....

12. Quali sono le altre attività economiche svolte nella Valle d'Aosta?

Allevamento, industria idroelettrica, produzione alimentare di formaggio e fontina

.....

.....

13. Quali di queste città si trovano in Valle d'Aosta?

- | | | |
|--|---|--|
| <input checked="" type="checkbox"/> Courmayeur | <input checked="" type="checkbox"/> Aosta | <input type="checkbox"/> Bolzano |
| <input type="checkbox"/> Brescia | <input type="checkbox"/> Bologna | <input checked="" type="checkbox"/> Cervinia |
| <input type="checkbox"/> Trieste | <input type="checkbox"/> Trento | <input type="checkbox"/> Modena |

Voto